

Défi 5
Numération
Bloc C

Nom : _____



J'associe le matériel
de base dix aux
nombres décimaux.



Je trouve le nombre
décimal qui est égal
à une décomposition.



Je lis et écris des
nombres décimaux
où figurent des
dixièmes et des
centièmes.

Défi 5
Jeux de nombres
Bloc C

Nom : _____



J'associe une représentation
rectangulaire à une
multiplication.

3	4
6	8

$$34 \times 12 = 408$$



Je construis des rectangles en
respectant certaines consignes.

J'explique les étapes
de ma technique
de multiplication.



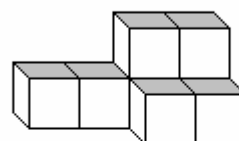
Dans les concours-Défi,
j'obtiens le grade 3 (+ et -)
et le grade 2 (x et ÷).

Défi 5
Géométrie
Bloc C

Nom : _____



Je distingue les éléments
d'une construction à
trois dimensions :
toit, base, face, volume...



Je fais des
constructions
en tenant
compte de certaines
contraintes.






J'utilise les termes *hauteur*,
périmètre, *aire* et *volume* ainsi
que les symboles cm , cm^2 , cm^3 ,
 L , mL et g .

Défi 5
Fractions
Bloc B (suite)

Nom : _____



J'associe l'abaque +/-
aux fractions.

			
+	2	7	3
-	5	3	1



Je trouve le
dénominateur
commun à deux
fractions.



J'explique les étapes de
mes calculs sur
l'abaque +/-.