

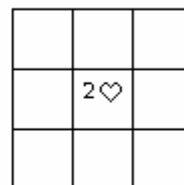
Défi 4
Logique
BLOC A

Nom : _____



Je combine des indices pour placer un élément dans une grille.

J'utilise le procédé par élimination.



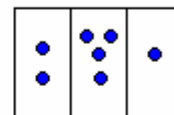
J'utilise le vocabulaire des grilles logiques.

Défi 4
Numération
BLOC A

Nom : _____



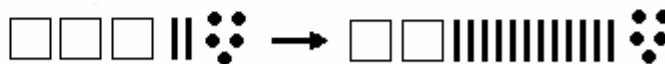
J'associe un nombre à diverses représentations concrètes (ex. : monnaie, bouliers, etc.)



Je trouve la meilleure représentation d'un nombre dans le but d'effectuer un calcul.



Je lis un nombre représenté dans différents systèmes de numération.



Défi 4
Jeux de nombres
BLOC A

Nom : _____



J'imagine différentes
façons d'effectuer un calcul.

$$\begin{array}{r} 400 \\ -147 \\ \hline \end{array} \Rightarrow \begin{array}{r} 399 \\ -146 \\ \hline \end{array}$$



Je prouve l'équivalence
de deux calculs.



Je lis, écris et
interprète des phrases
mathématiques où
apparaissent des variables.

Défi 4
Fractions
BLOC A

Nom : _____



J'associe une fraction unitaire
à une représentation
concrète ou imagée.



J'ordonne des
fractions unitaires.



Je lis et écris des fractions
et les divisions correspondantes.

Défi 4
Géométrie
BLOC A

Nom : _____



Je reconnais des caractéristiques communes à diverses figures géométriques.



Je classifie des quadrilatères.



Je nomme divers polygones et leurs propriétés.