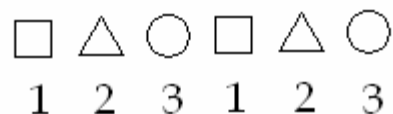


Défi 1
Logique
BLOC B

Nom : _____



J'imité une suite avec
un autre matériel.



Je prolonge
une suite.

Défi 1
Géométrie
BLOC B

Nom : _____



J'associe des nombres
à des carrés.



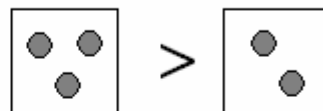
Je construis des dallages
pour obtenir des carrés.

Défi 1
Comparaisons
BLOC B

Nom : _____



J'associe des expressions telles $3 < 5$ et $4 = 4$ à du matériel de mon choix.



Je vérifie et complète des comparaisons de nombres : $5 > \underline{\quad}$.



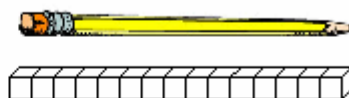
Je lis et écris des expressions telles $5 < 8$ et $3 = 3$.

Défi 1
Comparaisons
BLOC C

Nom : _____



Je choisis un instrument de mesure approprié.



J'explique comment mesurer la longueur d'un objet avec des centimètres.



J'utilise le mot centimètre et le symbole cm pour noter des longueurs.



Avec des centimètres, je mesure la longueur de petits objets.

Défi 1
Jeux d'addition
BLOCS B ET C

Nom : _____



Je résous des problèmes
d'addition ou de soustraction.



Je partage une quantité
selon certaines contraintes.